

106

РОССИЙСКАЯ ФЕДЕРАЦИЯ
 КАБАРДИНО-БАЛКАРСКАЯ РЕСПУБЛИКА
 МИНИСТЕРСТВО ОБРАЗОВАНИЯ, НАУКИ
 И СПОРТА РЕСПУБЛИКИ КБР

МУНИЦИПАЛЬНОЕ КАЗЕННОЕ
 ОБЩЕОБРАЗОВАТЕЛЬНОЕ
 УЧРЕЖДЕНИЕ
 "СРЕДНЯЯ
 ОБЩЕОБРАЗОВАТЕЛЬНАЯ ШКОЛА
 С. П. НИЖНИЙ ЧЕРЕК
 УРБАНСКОГО МУНИЦИПАЛЬНОГО
 РАЙОНА КБР

351307, КБР, Урванский район, с. П. Нижний Черек

Тестовая часть (за каждый правильный ответ- 1 балл)

1. На каком из материков расположены горы Атлас?

- 1) Африка 2) Австралия
- 3) Южная Америка 4) Северная Америка

10

2. В какой из перечисленных стран доля детей в возрастной структуре населения **наименьшая**?

- 1) Канада 2) Пакистан 3) Алжир 4) Мьянма

05

3. Для какой из перечисленных стран характерен миграционный отток населения?
1) Италия 2) Канада 3) США 4) Мексика

10

4. В какой из перечисленных стран средняя плотность населения **наименьшая**?
1) Австралия 2) Бангладеш 3) Вьетнам 4) Франция

05

5. В какой из перечисленных стран средняя ожидаемая продолжительность жизни **наибольшая**?
1) Индия 2) Испания 3) Китай 4) Мексика

05

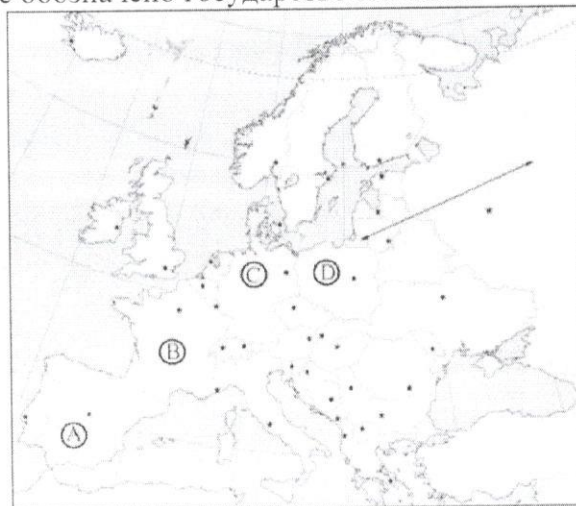
6. Для какой из перечисленных стран характерна постиндустриальная структура хозяйства?
1) Лаос 2) Франция 3) Чад 4) Сомали

10

7. В какой из перечисленных стран производство хлопка является отраслью международной специализации?
1) Ирландия 2) Китай
3) Канада 4) Саудовская Аравия

10

8. Какой буквой на карте обозначено государство Испания?



- 1) А
- 2) В
- 3) С
- 4) Д

08

9. С какой из перечисленных стран Россия имеет сухопутную границу?

- 1) Афганистан
- 2) Узбекистан
- 3) Швеция
- 4) Финляндия

10

10. Какой из перечисленных городов России имеет наибольшую численность населения?

- 1) Чита
- 2) Челябинск
- 3) Благовещенск
- 4) Магадан

10

11. В каком из перечисленных городов Центральной России находится крупный металлургический комбинат полного цикла?

- 1) Тверь
- 2) Рязань
- 3) Липецк
- 4) Орел

10

12. Большинство верующих какого из перечисленных народов исповедуют буддизм?

- 1) калмыки
- 2) карелы
- 3) чувашаи
- 4) хакасы

10

13. Выберите в приведенном списке три страны, являющиеся крупными производителями природного газа

- 1. Канада
- 2) Иран
- 3. Финляндия
- 4. Россия
- 5) США

10

14. Определите страну по этническому составу ее населения: пуштуны – 52%, таджики – 20%, хазарейцы – 9%, узбеки – 9%, туркмены – 2%, белуджи – 1% и др. Назовите эту страну.

Афганистан

10

15. Найдите и выпишите ошибку в перечне территорий, входящих в государство, которое по-русски именуется Великобританией:

- 1. Уэльс
- 2. Англия
- 3) Бретань
- 4. Шотландия
- 5. Северная Ирландия

10

16. Это дерево знаменито своими необычными пропорциями. Оно одно из самых толстых деревьев в мире — при средней окружности ствола 9—10 м, его высота всего 18-25 м (в "Книге рекордов Гиннеса" за 1991 г. рассказывается о дереве диаметром целых 54,5 м.). Наверху ствол разделяется на толстые, почти горизонтальные ветви, образующие большую, до 38 м в диаметре, крону. В сухой период, зимой, когда дерево сбрасывает листву, он приобретает курьезный вид дерева, растущего корнями вверх. О каком дереве идет речь:

- 1) Секвойя.
- 2) Вельвичия.
- 3) Баобаб.
- 4) Эвкалипт.

10

17. Самым глубоким глубоководным желобом на Земле является:

1. Чилийский.
2. Перуанский.
3. Зондский.
- ④ Марианский.

18. Выберите правильное утверждение, в котором указаны материки по мере увеличения их площади:

- ① Австралия, Антарктида, Северная Америка, Южная Америка, Африка, Евразия.
- 2) Евразия, Африка, Северная Америка, Южная Америка, Антарктида, Австралия.
- 3) Австралия, Антарктида, Южная Америка, Африка, Северная Америка, Евразия.
- 4) Австралия, Антарктида, Южная Америка, Северная Америка, Африка, Евразия.

19. С каким из перечисленных государств Россия имеет сухопутную границу?

- ① Финляндия.
2. Армения.
3. Болгария.
4. Турция.

20. На какой из перечисленных территорий России наиболее вероятны землетрясения?

- ① Кольский полуостров.
2. острова Новая Земля.
3. остров Сахалин.
4. полуостров Таймыр.

21. На территорию какого экономического района приходится около половины валового сбора сахарной свёклы в России?

- 1) Центрально-Чернозёмного.
- 2) Западно-Сибирского.
- 3) Восточно-Сибирского.
- ④ Центрального.

22. Европейский центр технологий и инвестиционных исследований Etirc планирует вложить в 2009–2010 годах в строительство в Иркутской области двух заводов по производству водородного топлива 300 млн. долларов. Стоимость строительства заводов составит около 220 млн. долларов. Остальные средства пойдут на обеспечение производства электроэнергии.

Компания выбрала две площадки под строительство: в районе поселка Листвянка и в районе Ангарска. Etirc намерен производить топливный водород путем его электролиза из воды, сжигать и поставлять в Японию

Картами какого географического района нужно воспользоваться для того, чтобы изучить территорию, на которой будет реализован названный в тексте проект?

- 1) Европейского Севера.
- ② Урала.
- 3) Сибири.
- 4) Дальнего Востока.

23. Примером исчерпаемых и невозобновимых природных ресурсов служит

1. Пресная вода.
- ② Почва.
3. Железная руда
4. Солнечная энергия.

24. Отметьте религию, которой придерживаются народы финно-угорской группы:

1. Буддизм.
2. Иудаизм.
3. Ислам.
4. Православие.

25. Укажите ошибку в составе «Большой восьмерки»:

1. США.
2. Япония.
3. Испания.
4. Великобритания.
5. Германия.
6. Франция.
7. Италия.
8. Канада.

26. Найдите единственную страну, в которой минимальны предпосылки для межрелигиозных или межэтнических конфликтов:

1. Великобритания.
2. Индия.
3. Япония.
4. Турция.
5. Канада.
6. Югославия.

27. Какой регион России в наибольшей степени пострадал от аварии на Чернобыльской АЭС:

1. Брянская область.
2. Воронежская.
3. Смоленская область.
4. Орловская область.

28. В какой стране младенческая смертность максимальна:

1. Индия.
2. Китай.
3. Иран.
4. Афганистан.
5. Бангладеш.

29. Вспомните экономический район, в котором больше всего республик в составе РФ, и найдите единственную страну, с которой он граничит:

1. Китай.
2. Монголия.
3. Казахстан.
4. Грузия.
5. Армения.
6. Финляндия.

30. Какая страна производит дешевую электроэнергию, экспортирует нефть и газ:

1. США;
2. Германия.

- 3) Норвегия.
- 4. Украина.
- 5. Нигерия.
- 6. Бразилия.

10

Теоретическая часть

1. Установите соответствие между страной и её столицей: к каждому элементу первого столбца подберите соответствующий элемент из второго и внесите в строку ответов выбранные цифры (2б.):

СТРАНА	СТОЛИЦА
А) Таиланд	1) Багдад
Б) Индонезия	2) Каир
В) Египет	3) Джакарта
4) Бангкок	

20

A - 4 Б - 3 В - 2

2. Расположите страны в порядке возрастания в них коэффициента рождаемости (на 1 тыс. жителей). Укажите ответ в виде последовательности буквенных обозначений выбранных элементов (3б.):

- А) Камерун
- Б) Венгрия
- В) США
- Г) Мексика

30

3. Определите страну по ее краткому описанию (5б.)

Территория страны полностью расположена в западном полушарии и при этом пересекается экватором. Страна является крупнейшей по численности населения на материке, на котором она расположена. Страна обладает огромными гидроэнергетическими ресурсами, по ее территории протекает много полноводных рек, поэтому большая часть электроэнергии в этой стране производится на ГЭС.

4. Установите соответствие (5б.):

Форма правления:

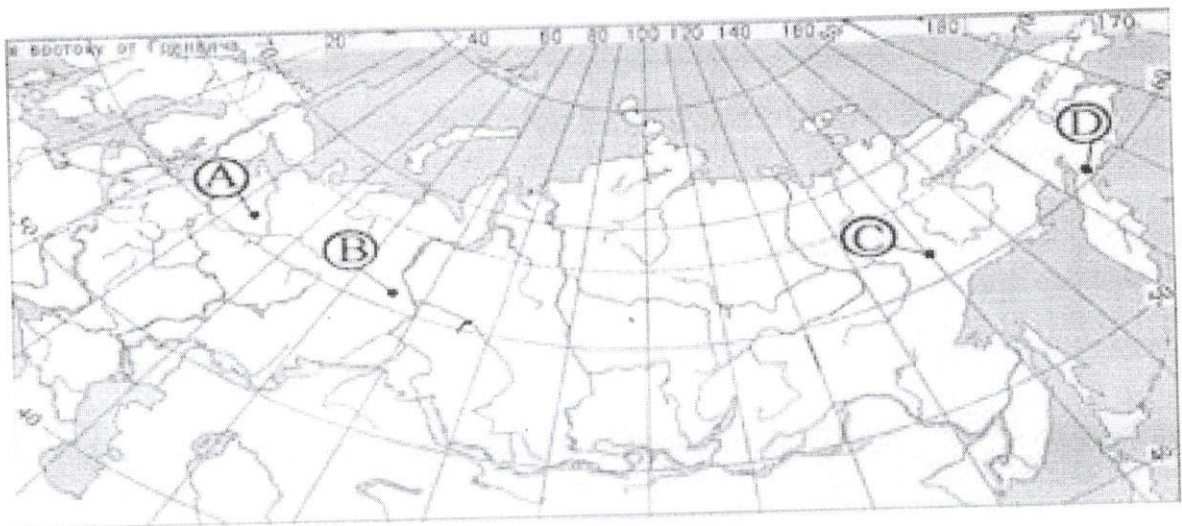
- 1) Монархия
- 2) Республика

Страны

- А) Испания, Япония, Бельгия
- Б) Марокко, Франция, Непал
- В) Гвинея, Либерия, Турция

05

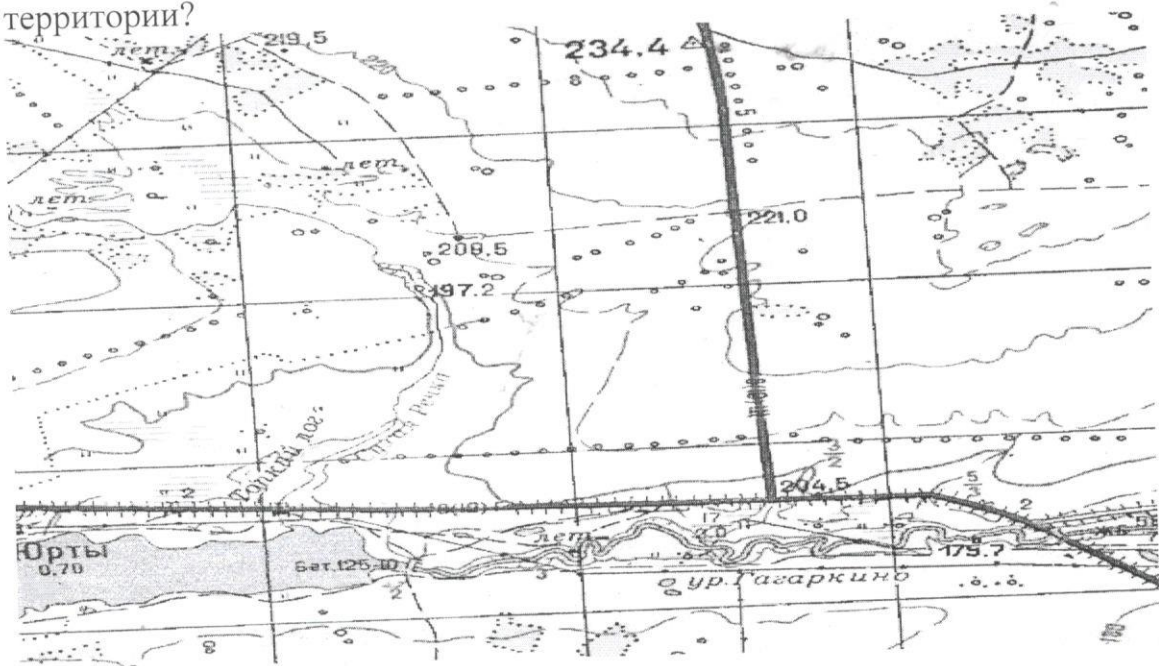
5. В каком из пунктов, обозначенных буквами на карте России, средние температуры января наиболее низкие? (5б.)



1) A; 2) B; 3) C; 4) D.

6. Внимательно изучите фрагмент топографической карты и выполните задания (10б.)

- 1) Определите высшую точку изображенной территории.
- 2) Определите азимут от точки с высотой 234,4м к точке с высотой 219,5м.
- 3) Назовите естественные формы рельефа, изображенные на топографической карте.
- 4) Какие растительные сообщества, обозначенные условными знаками, встречаются на изображенной территории?



Кимчев А В - Леса
 Мешков А Х - Шелк
 Кимчева Д А - Шелк
 Мешкова А Х - Шелк
 Мешкова Ю И - Шелк

27.5